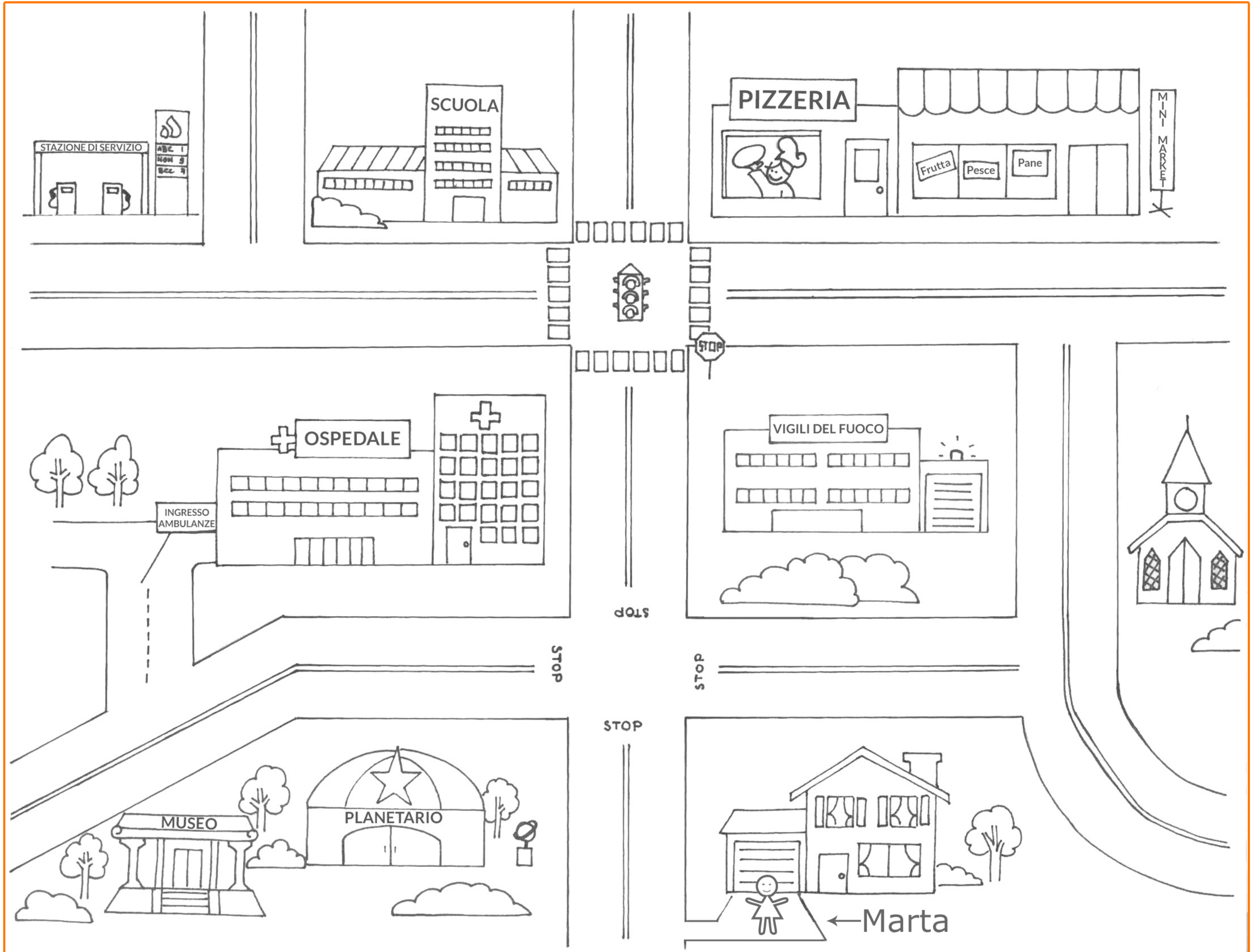


# Percorsi

- Questo è il quartiere dove vive Marta. Traccia in **rosso** il percorso che Marta fa per andare a scuola e in **blu** quello per andare in chiesa e poi completa il testo che segue.

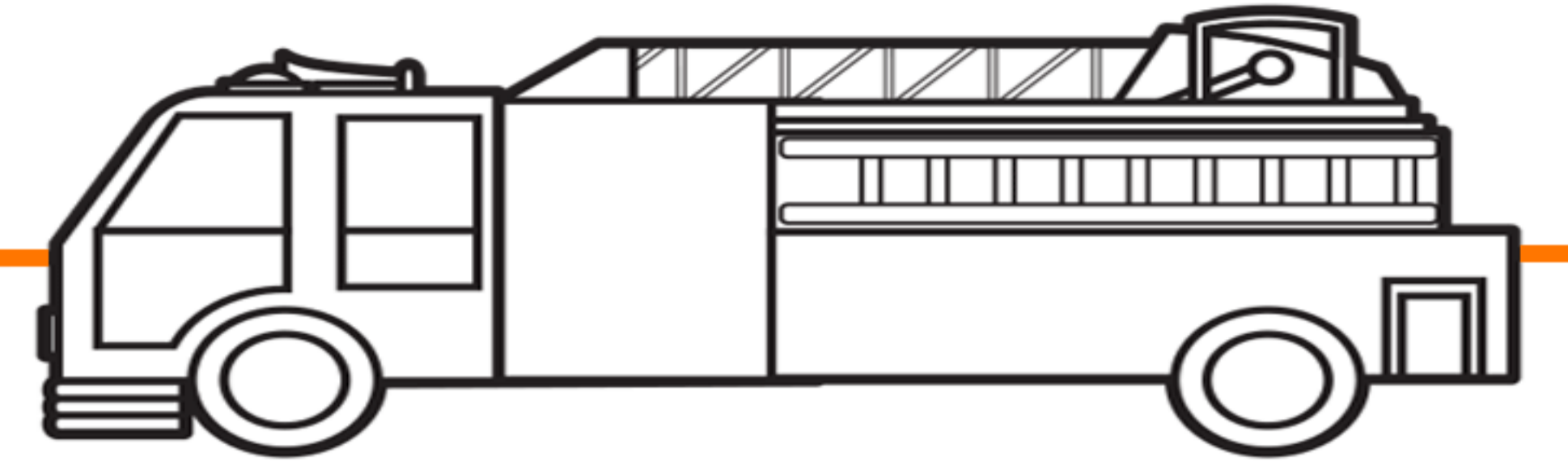


Per andare a scuola Marta esce di casa, gira a ..... e cammina dritta fino al ..... Attraversa a sinistra sulle ..... e poi riattraversa a destra e si trova davanti la scuola. Invece per andare in chiesa Marta esce di casa e gira a ....., poi gira nuovamente a ..... e prosegue dritto superando la caserma dei ..... All'incrocio attraversa la strada e si ritrova davanti la chiesa.

- **Obiettivo didattico:** sapersi orientare e descrivere graficamente i percorsi.

# Percorsi

- Traccia il percorso che il camion dei pompieri dovrà fare per raggiungere la casa in fiamme e poi descrivilo.



Il camion dei pompieri dovrà percorrere tutta via .....

.....

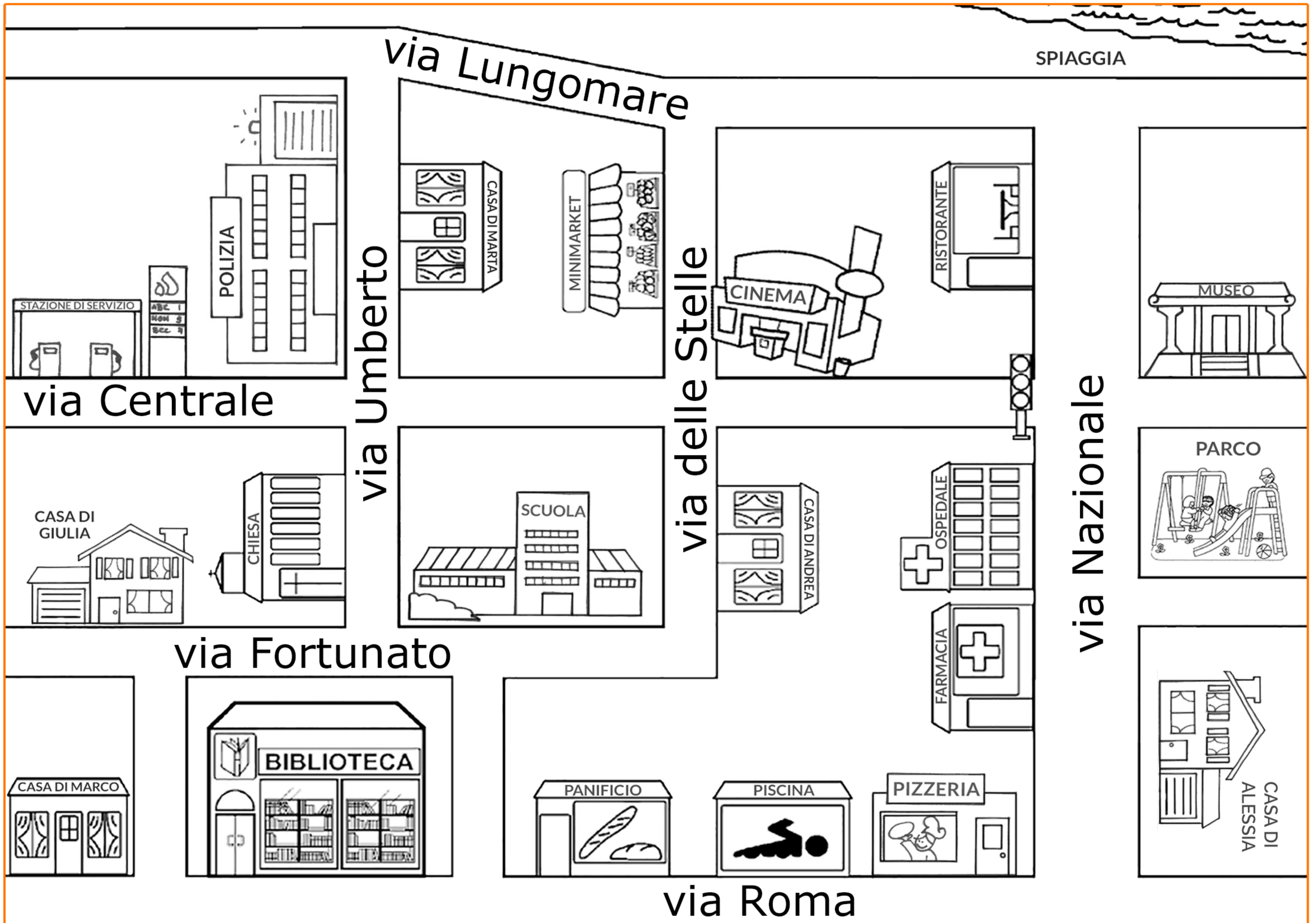
.....

.....

- Obiettivo didattico: sapersi orientare e descrivere graficamente i percorsi.

# Percorsi

- Traccia con colori diversi e descrivi il percorso che Alessia, Marta e Giulia devono fare per andare al parco.



Alessia esce di casa e si trova in via .....

Marta esce di casa e si trova in via .....

Giulia esce di casa e si trova in via .....

- Obiettivo didattico: sapersi orientare e descrivere graficamente i percorsi.