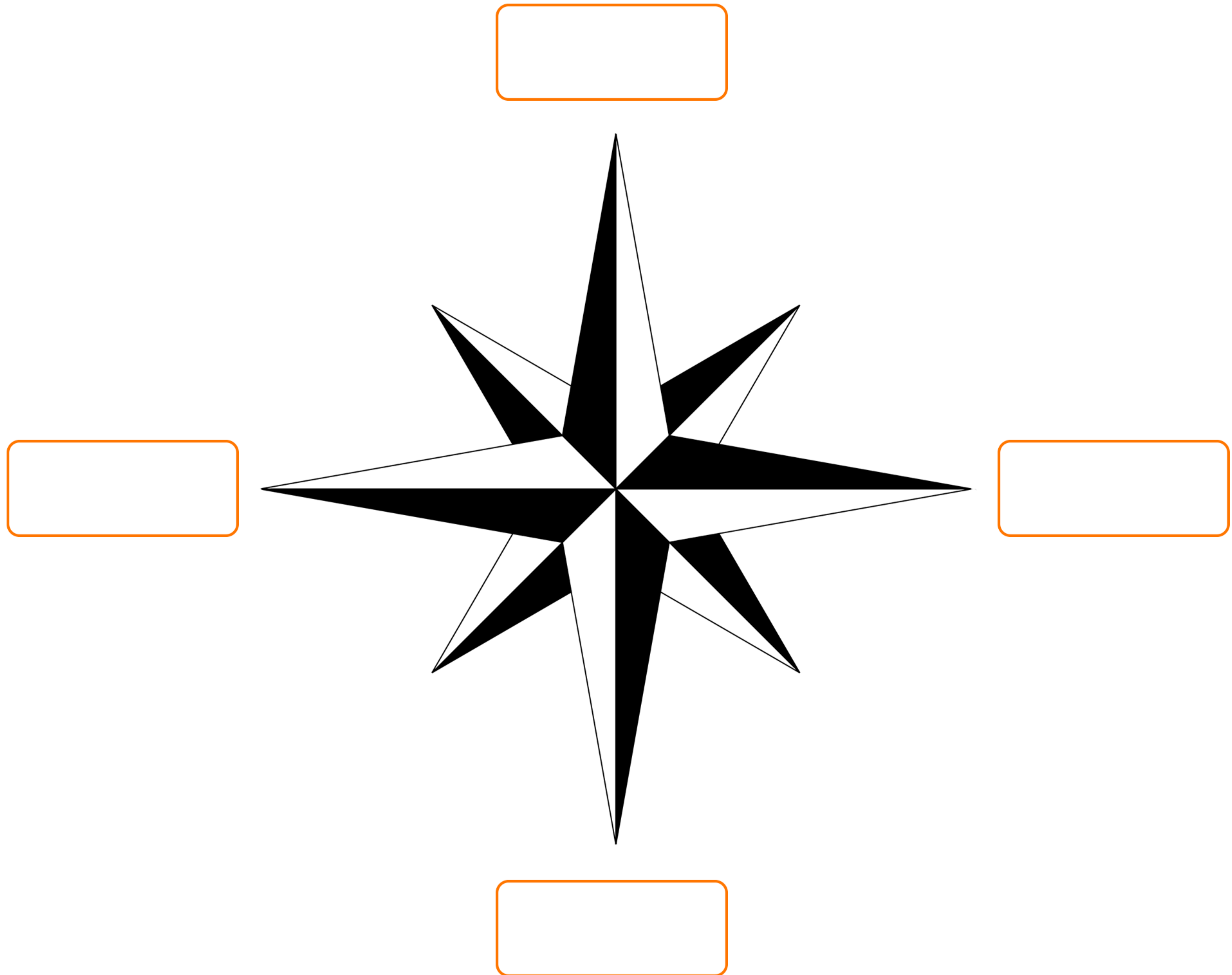


# Orientamento e punti cardinali

- Scrivi i punti cardinali al posto giusto.



- Collega con delle linee i nomi che indicano gli stessi punti cardinali.

NORD

MEZZANOTTE

ORIENTE

SUD

LEVANTE

SETTENTRIONE

EST

MEZZOGIORNO

MERIDIONE

OVEST

PONENTE

OCCIDENTE

- Obiettivo didattico: conoscere i punti cardinali.



# Orientamento e punti cardinali

- Completa la seguente tabella con i punti cardinali.

	a destra	a sinistra	dietro
se guardi a nord			
se guardi a est			
se guardi a sud			
se guardi ad ovest			

- Vero o falso? Indica con una X.

- I punti cardinali sono 8.

 V  F

- I punti cardinali sono riferimenti fissi.

 V  F

- Il sole sorge a nord.

 V  F

- La bussola è dotata di un ago magnetico.

 V  F

- L'ago magnetico della bussola indica sempre l'est.

 V  F

- Il sole a mezzogiorno indica il sud.

 V  F

- Di notte senza il sole non possiamo orientarci.

 V  F

- L'ovest si indica anche con occidente e ponente.

 V  F

- **Obiettivo didattico:** conoscere i punti cardinali.



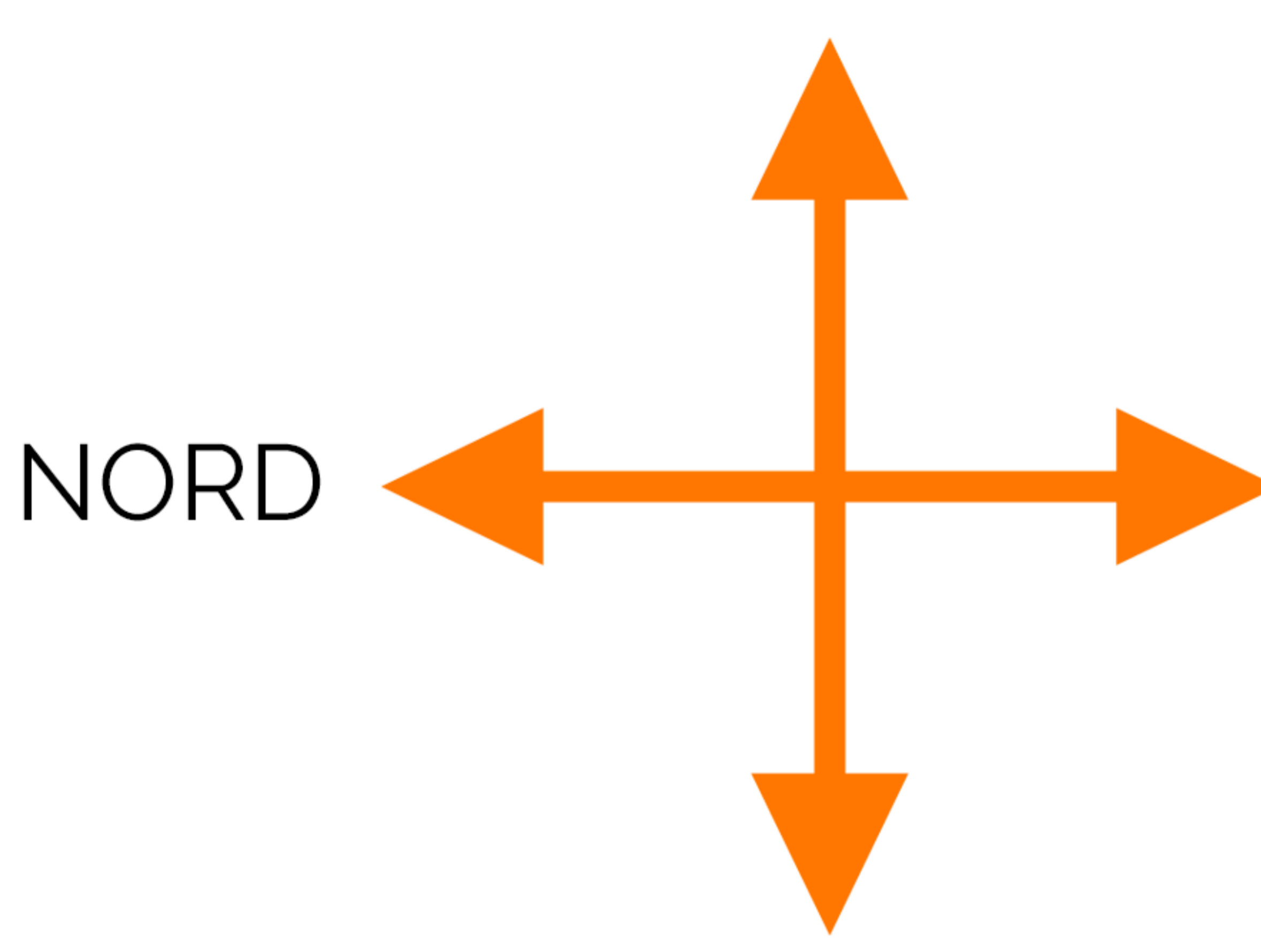
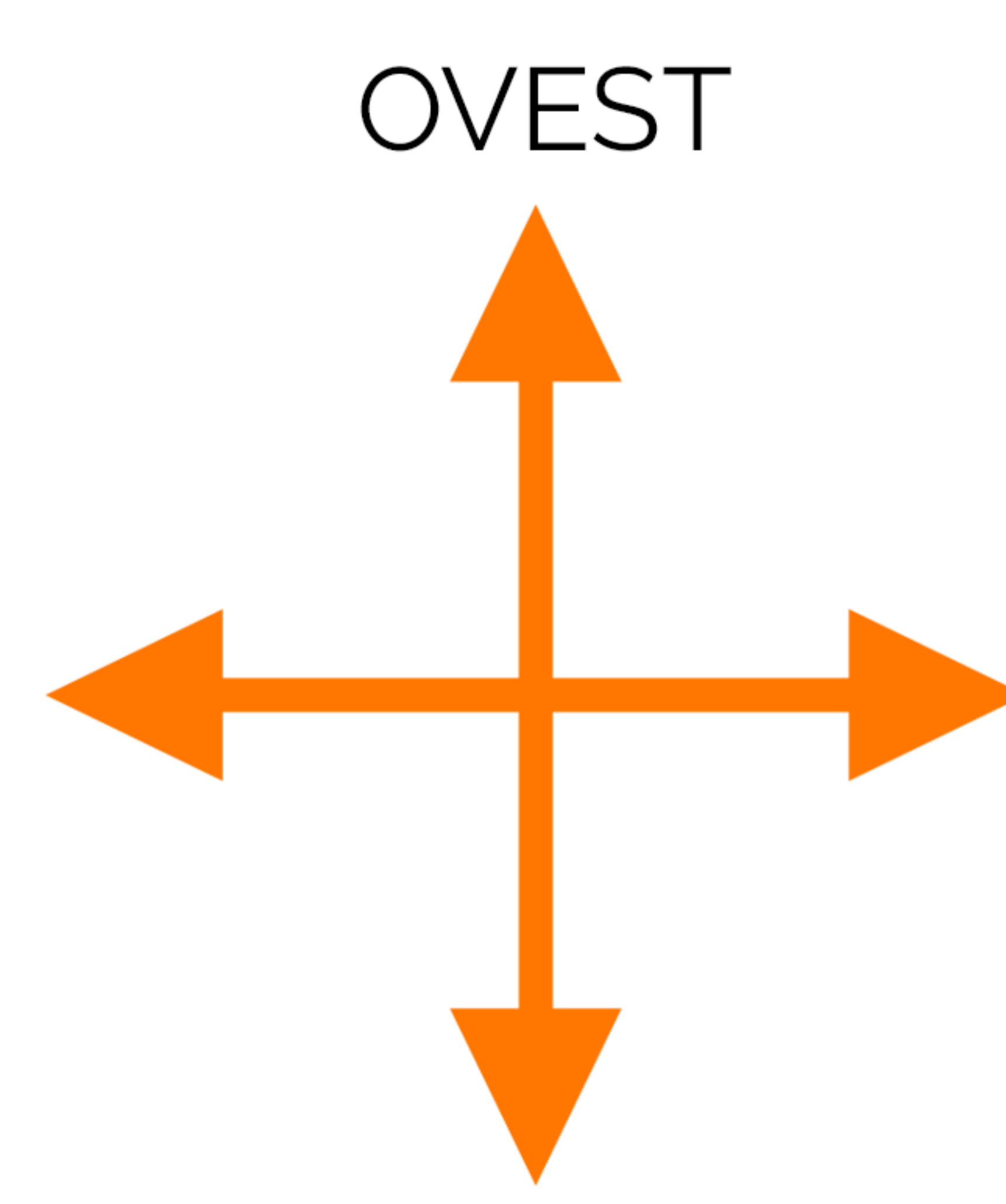
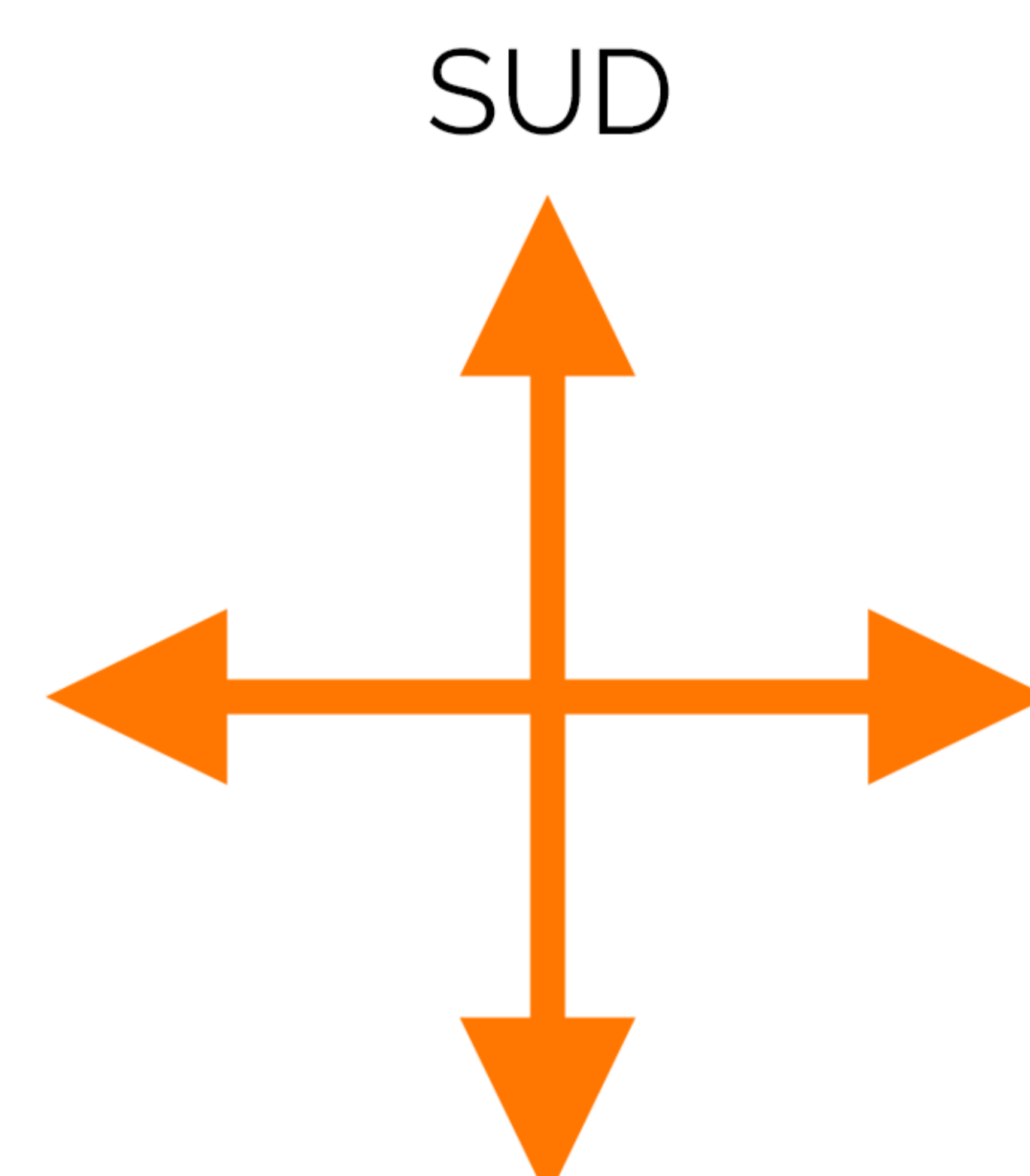



# Orientamento e punti cardinali

- Completa le seguenti frasi:
  - I punti cardinali sono: .....
  - Nei punti cardinali gli opposti sono NORD - ..... e ..... - .....
  - Se guardiamo verso NORD alla nostra ..... troviamo l'EST.
  - Per orientarci di giorno possiamo usare il .....
  - Per orientarci di notte possiamo usare la .....
  - L'ago della bussola indica sempre il .....
  - La stella polare indica il .....
  - Il sole sorge a .....
  - Il sole tramonta a .....
  - La posizione del sole, quando è in alto nel cielo, indica il .....
  - La stella polare si trova nella costellazione dell' .....
  - Tra il NORD e l'EST c'è il .....
  - Tra il SUD e l'EST c'è il .....
  - Tra il SUD e l'OVEST c'è il .....
  - Tra il NORD e l'OVEST c'è il .....

• **Obiettivo didattico:** conoscere i punti cardinali.

# Orientamento e punti cardinali

- Completa con i punti cardinali mancanti.

 <p>NORD</p>	 <p>OVEST</p>
 <p>SUD</p>	 <p>EST</p>
 <p>NORD</p>	 <p>SUD</p>

- **Obiettivo didattico:** conoscere i punti cardinali.



# Orientamento e punti cardinali

- Osserva la carta geografica dell'Italia ed inserisci i nomi dei punti cardinali. Poi completa le frasi nella pagina successiva.



- **Obiettivo didattico:** conoscere i punti cardinali.



# Orientamento e punti cardinali

- Osserva la cartina dell'Italia presente nella pagina precedente e completa le seguenti frasi inserendo i punti cardinali giusti.
  - Roma si trova a ..... di Venezia.
  - Foggia si trova a ..... di Roma.
  - Sassari si trova a ..... di Napoli.
  - Messina si trova a ..... di Palermo.
  - Genova si trova a ..... di Cagliari.
  - Milano si trova a ..... di Brescia, Verona e Trieste.
  - Trieste si trova a ..... di Napoli e Catania.
  - Firenze si trova a ..... di Bologna e Verona.
  - Taranto si trova a ..... di Lecce.
  - Torino si trova a ..... di Sassari e Cagliari.
  - Palermo si trova a ..... di Roma e Venezia.
  - Venezia si trova a ..... di Verona, Brescia e Milano.
  - Verona si trova a ..... di Bologna e Firenze.
  - Napoli si trova a ..... di Bari.

• **Obiettivo didattico:** conoscere i punti cardinali.