






# I sottomultipli dell'euro





























Completate la seguente tabella:

Monete	Nome	Valore	Valore in €	Quante monete per fare un euro?
	Un centesimo di euro	$\frac{1}{100}$ di euro	€ 0,01	100 monete
				
				
				
				
				



# Esercizi sull'euro

Calcola il totale delle seguenti somme:

   	€ .....
    	€ .....
     	€ .....
      	€ .....
     	€ .....



# Esercizi sull'euro

Calcola il totale delle seguenti somme:



€ .....



€ .....



€ .....




































€ .....





# Esercizi sull'euro

Calcola il totale delle seguenti somme:

			€ .....		
					€ .....
					€ .....
					€ .....
			€ .....		
			€ .....		
					€ .....
				€ .....	



# Esercizi sull'euro

La tabella riporta gli acquisti di alcuni clienti in un negozio di giocattoli. Completala.

Acquisto	Prezzo	Pagamento	Resto ricevuto
	€ 37,50		2 monete da € ..... e 1 moneta da € .....
	€ 6,80	1 banconota da € .....	
	€ 78,00		1 banconota da € ..... e 1 moneta da € .....
	€ .....		



# Esercizi sull'euro

La tabella riporta gli acquisti di alcuni clienti in un negozio di giocattoli. Completala.

Acquisto	Prezzo	Pagamento	Resto ricevuto
	€ 44,00		1 banconota da € ..... e 1 moneta da € .....
	€ 17,35	1 banconota da € .....	
	€ 15,60		2 monete da € ..... e 2 monete da € .....
	€ .....		



# Esercizi sull'euro

La tabella riporta gli acquisti di alcuni clienti in un negozio di giocattoli. Completala.

Acquisto	Prezzo	Pagamento	Resto ricevuto
	€ 35,00		1 banconota da € ..... e 1 banconota da € .....
	€ 63,50	1 banconota da € ..... e 1 banconota da € .....	 
	€ 19,94		1 moneta da € ..... e 1 moneta da € .....
	€ .....		 