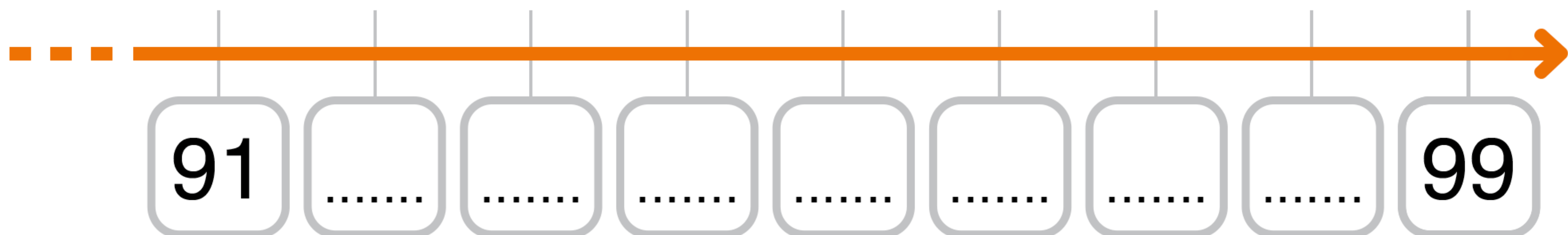


I NUMERI FINO A 99

Completa la linea dei numeri da 91 a 99.





Completa la tabella dei numeri da 0 a 99. Poi rispondi.

0									
	11								
		22							
			33						
				44					
					55				
						66			
							77		
								88	

- Che cosa cambia in ogni colonna? Cambia la cifra delle
- Che cosa cambia in ogni riga? Cambia la cifra delle

I NUMERI FINO A 99

■ Conta e scrivi quanti centesimi di euro ci sono in ogni riquadro.



▲ Calcola come negli esempi.

+ 9 u

66	75
88
81
77
90

+ 4 da

55	95
39
44
51
27

- 8 u

98	90
83
79
99
94

- 5 da

85	35
78
90
54
71

I NUMERI FINO A 99

■ Riscrivi i seguenti numeri in ordine crescente.

76 • 44 • 91 • 21 • 56 • 75 • 93 • 88 • 55 • 11

--	--	--	--	--	--	--	--	--	--

▲ Riscrivi i seguenti numeri in ordine decrescente.

67 • 82 • 14 • 99 • 66 • 27 • 60 • 80 • 77 • 43

--	--	--	--	--	--	--	--	--	--

● Completa con > (maggiore), < (minore) o = (uguale).

88 99

45 37

78 66

90 90

25 35

98 95

66 79

86 85

97 98

88 88

73 69

69 56

✱ Completa.

9 **da** + 4 **u** =

7 **da** + = 71

8 **da** + 8 **u** =

..... + 5 **u** = 65

6 **da** + = 60

..... + 9 **u** = 99

9 **da** + 7 **u** =

4 **da** + = 48

..... + 3 **u** = 83

5 **da** + = 52