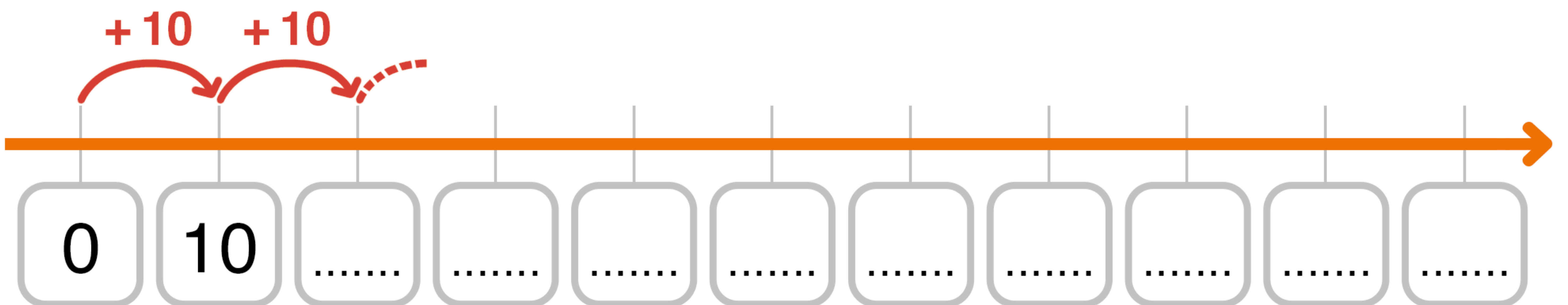

























































LA TABELLINA DEL 10

Completa la linea dei numeri. Parti da 0 e fai salti da 10.



Osserva la tabellina, conta i tentacoli dei calamari e scrivi i risultati.

$10 \times 0 = \dots\dots\dots$										
$10 \times 1 = \dots\dots\dots$										
$10 \times 2 = \dots\dots\dots$										
$10 \times 3 = \dots\dots\dots$										
$10 \times 4 = \dots\dots\dots$										
$10 \times 5 = \dots\dots\dots$										
$10 \times 6 = \dots\dots\dots$										
$10 \times 7 = \dots\dots\dots$										
$10 \times 8 = \dots\dots\dots$										
$10 \times 9 = \dots\dots\dots$										
$10 \times 10 = \dots\dots\dots$										

LA TABELLINA DEL 10

Completa.

\times	0	1	2	3	4	5	6	7	8	9	10
10	0	10

Colora solo i risultati che appartengono alla tabellina del 10.

15	60	30	36	90	10	11
33	95	72	100	55	66	85
40	20	48	80	99	70	50

Collega ogni moltiplicazione al risultato corretto.

$10 \times 4 =$	50
$10 \times 6 =$	80
$10 \times 1 =$	60
$10 \times 8 =$	40
$10 \times 5 =$	70
$10 \times 7 =$	10

LA TABELLINA DEL 10

Colora solo il risultato esatto di ogni moltiplicazione.

$10 \times 7 =$ 60 70

$10 \times 6 =$ 60 80

$10 \times 3 =$ 33 30

$10 \times 4 =$ 40 45

$10 \times 1 =$ 11 10

$10 \times 0 =$ 10 0

$10 \times 2 =$ 20 24

$10 \times 8 =$ 80 50

$10 \times 8 =$ 80 90

$10 \times 5 =$ 55 50

$10 \times 10 =$ 100 110

Completa.

$10 \times \dots = 60$

$10 \times \dots = 80$

$10 \times \dots = 0$

$10 \times \dots = 70$

$10 \times \dots = 10$

$10 \times \dots = 20$

$10 \times \dots = 50$

$10 \times \dots = 30$

$10 \times \dots = 90$

$10 \times \dots = 40$

$10 \times \dots = 100$

Risolvi il problema.

Se 5 bambini alzano le mani al cielo, quante dita ci sono in totale?

