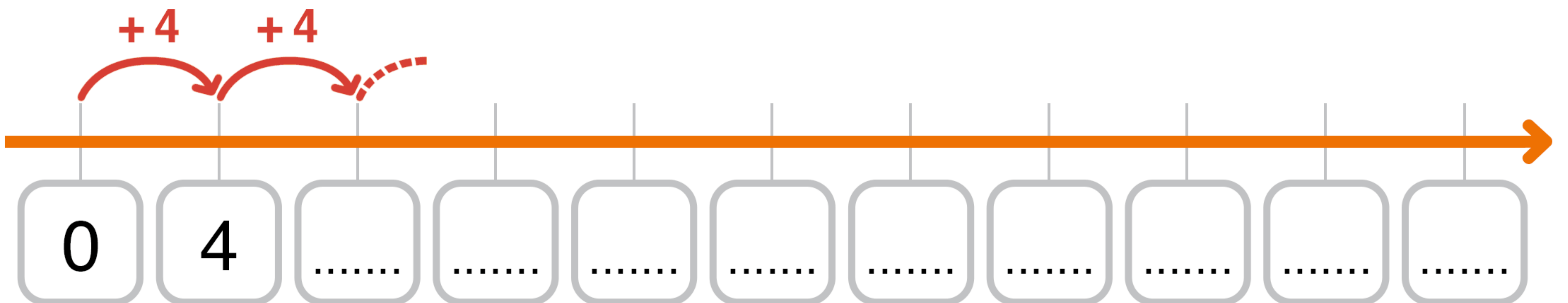












LA TABELLINA DEL 4

Completa la linea dei numeri. Parti da 0 e fai salti da 4.



Osserva la tabellina, conta le zampe dei cani e scrivi i risultati.

$4 \times 0 = \dots\dots\dots$										
$4 \times 1 = \dots\dots\dots$										
$4 \times 2 = \dots\dots\dots$										
$4 \times 3 = \dots\dots\dots$										
$4 \times 4 = \dots\dots\dots$										
$4 \times 5 = \dots\dots\dots$										
$4 \times 6 = \dots\dots\dots$										
$4 \times 7 = \dots\dots\dots$										
$4 \times 8 = \dots\dots\dots$										
$4 \times 9 = \dots\dots\dots$										
$4 \times 10 = \dots\dots\dots$										

LA TABELLINA DEL 4

Completa.

\times	0	1	2	3	4	5	6	7	8	9	10
4	0	4

Colora solo i risultati che appartengono alla tabellina del 4.

15	6	16	32	30	24	38
20	36	18	4	27	14	40
10	8	22	28	42	12	26

Collega ogni moltiplicazione al risultato corretto.

$4 \times 8 =$	0
$4 \times 4 =$	32
$4 \times 9 =$	36
$4 \times 0 =$	28
$4 \times 3 =$	16
$4 \times 7 =$	12

LA TABELLINA DEL 4

Colora solo il risultato esatto di ogni moltiplicazione.

$4 \times 6 =$ 22 24

$4 \times 9 =$ 32 36

$4 \times 10 =$ 44 40

$4 \times 1 =$ 6 4

$4 \times 4 =$ 20 16

$4 \times 5 =$ 18 20

$4 \times 7 =$ 28 32

$4 \times 2 =$ 8 10

$4 \times 8 =$ 32 28

$4 \times 3 =$ 12 16

$4 \times 0 =$ 0 4

Completa.

$4 \times \dots = 20$

$4 \times \dots = 0$

$4 \times \dots = 4$

$4 \times \dots = 40$

$4 \times \dots = 32$

$4 \times \dots = 16$

$4 \times \dots = 28$

$4 \times \dots = 8$

$4 \times \dots = 12$

$4 \times \dots = 24$

$4 \times \dots = 36$

Risolvi il problema.

Un banco ha 4 gambe. Quante gambe hanno 7 banchi?

