


Geografia 4^a



Quaderno operativo di
geografia per la classe quarta

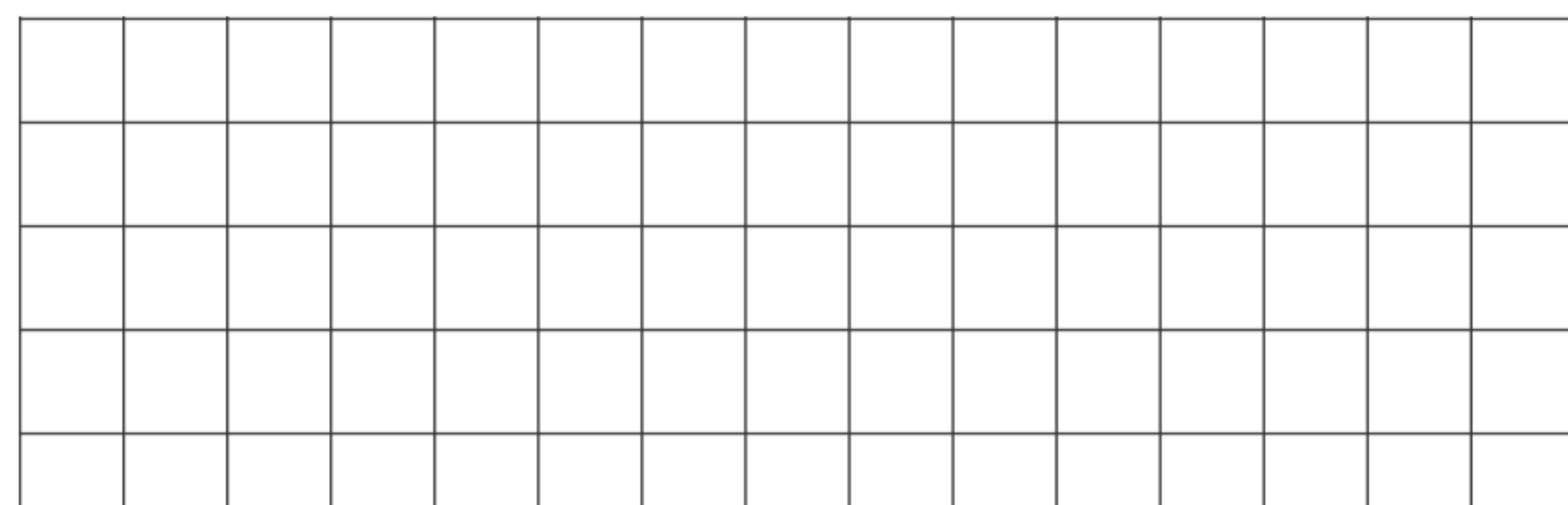

Indice



- La riduzione in scala 2 - 3
- Mappe e carte geografiche 4 - 5
- I simboli delle carte geografiche 6 - 8
- Orientamento e punti cardinali 9 - 11
- Il clima 12 - 17
- La montagna 18 - 19
- Le Alpi 20 - 22
- Gli Appennini 23 - 25
- La collina 26 - 27
- La pianura 28 - 29
- La pianura Padana 30 - 32
- Il fiume 33 - 35
- Il fiume Po 36 - 38
- Il lago 39 - 41
- Il mare 42 - 43
- Educazione stradale 44 - 48

La riduzione in scala

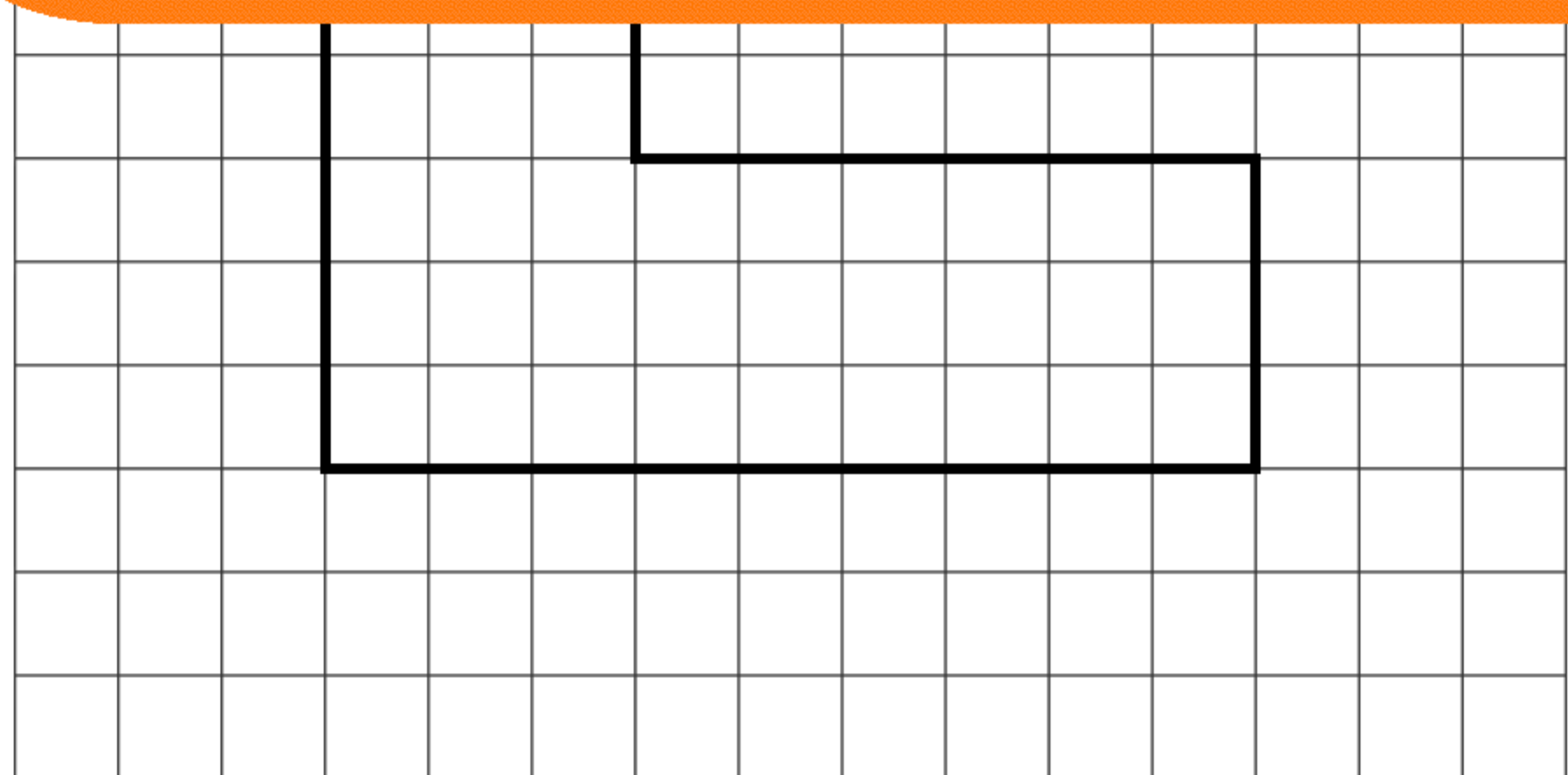
- Gli oggetti nel riquadro di destra sono una rappresentazione ridotta di quelli a sinistra. Conta quanti quadretti misura ciascun disegno e indica la scala di riduzione usata.



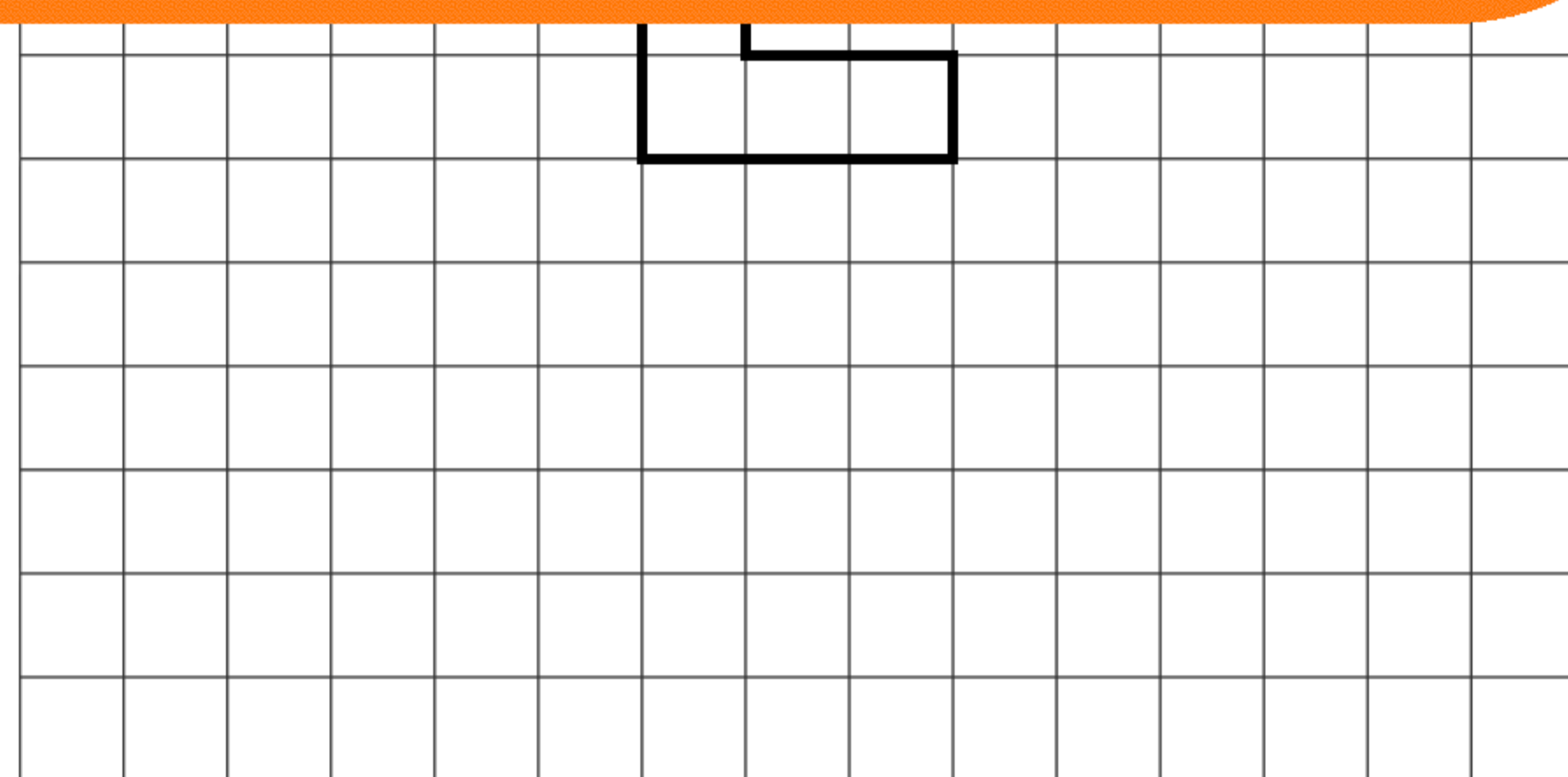
Questa è una copia dimostrativa.

Tutti i nostri libri possono essere acquistati sul sito.

©Pianetabambini.it



Oggetto originale



Scala 1:

La riduzione in scala

- Indica se ogni frase è vera o falsa.

- La riduzione in scala si utilizza per le cartine geografiche.

V F

- La scala di riduzione indica quanto è stato ingrandito un territorio.

V F

Questa è una copia dimostrativa.

Tutti i nostri libri possono essere acquistati sul sito.

©Pianetabambini.it

- La scala 50:1 è una scala di riduzione.

V F

- Sulle carte geografiche il primo numero di una scala indica un cm sulla carta e il secondo i cm nella realtà.

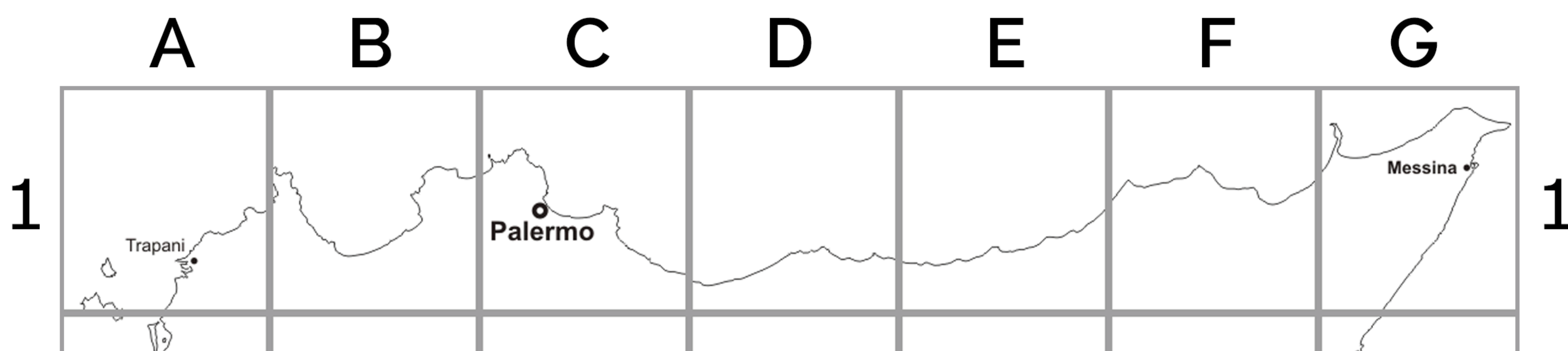
V F

- La scala 1:1 vuol dire che gli oggetti sono disegnati con le dimensioni reali.

V F

Mappe e carte geografiche

- Osserva questa cartina della Sicilia e completa le due tabelle scrivendo in quale quadrante si trovano le città.



Questa è una copia
dimostrativa.

Tutti i nostri libri possono
essere acquistati sul sito.

©Pianetabambini.it

AVOIA		Palermo	
Caltanissetta		Ragusa	
Catania		Siracusa	
Gela		Trapani	
Mazara del Vallo		Vittoria	

Mappe e carte geografiche

- Colora le regioni italiane in modo che quelle confinanti abbiano colore diverso e scrivi di quale tipo di carta geografica si tratta.



Questa è una copia
dimostrativa.

Tutti i nostri libri possono
essere acquistati sul sito.

©Pianetabambini.it



I simboli delle carte geografiche

- Colora questa cartina fisica dell'Italia e poi completa la legenda con i colori utilizzati.




Questa è una copia
dimostrativa.


Tutti i nostri libri possono
essere acquistati sul sito.

©Pianetabambini.it


Legenda




collina




pianura



mare poco profondo




montagna



mare più profondo

I simboli delle carte geografiche

- Osserva questa mappa e rispondi con vero o falso.



Questa è una copia
dimostrativa.

Tutti i nostri libri possono
essere acquistati sul sito.

©Pianetabambini.it

3. Un lago ed una foresta si trovano a sud-est.

V F

4. Tutte le città sono raggiunte dall'autostrada.

V F

5. Ci sono città lungo la ferrovia.

V F

6. Tutte le strade locali collegano le città con l'autostrada.

V F

I simboli delle carte geografiche

- Disegna la pianta del tuo edificio scolastico e poi crea una legenda con i simboli che preferisci.

Pianta della mia scuola

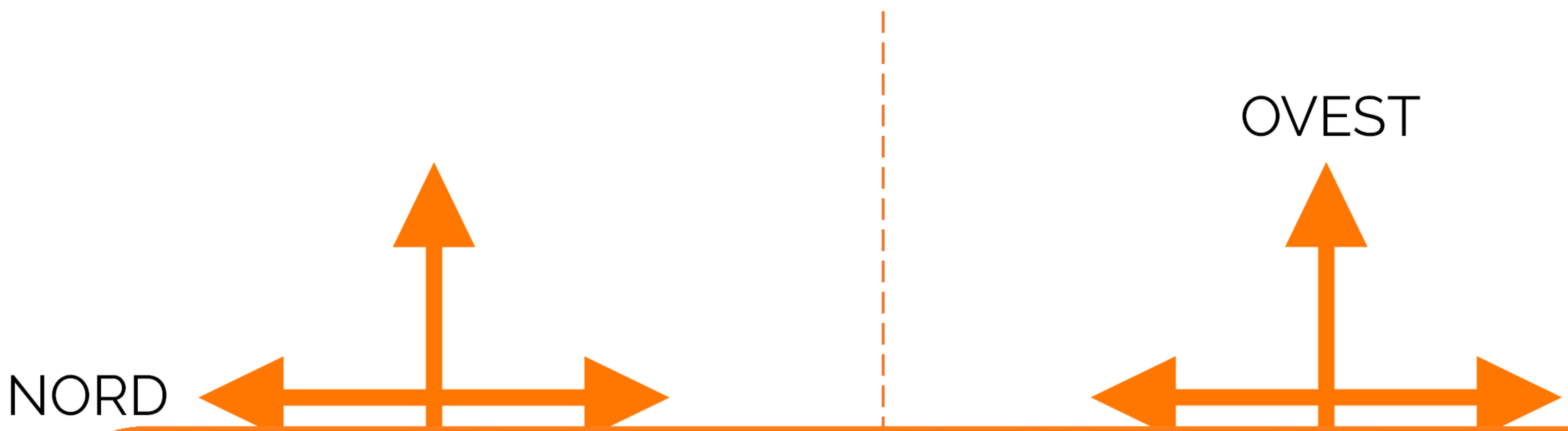
Questa è una copia
dimostrativa.

Tutti i nostri libri possono
essere acquistati sul sito.

©Pianetabambini.it

Orientamento e punti cardinali

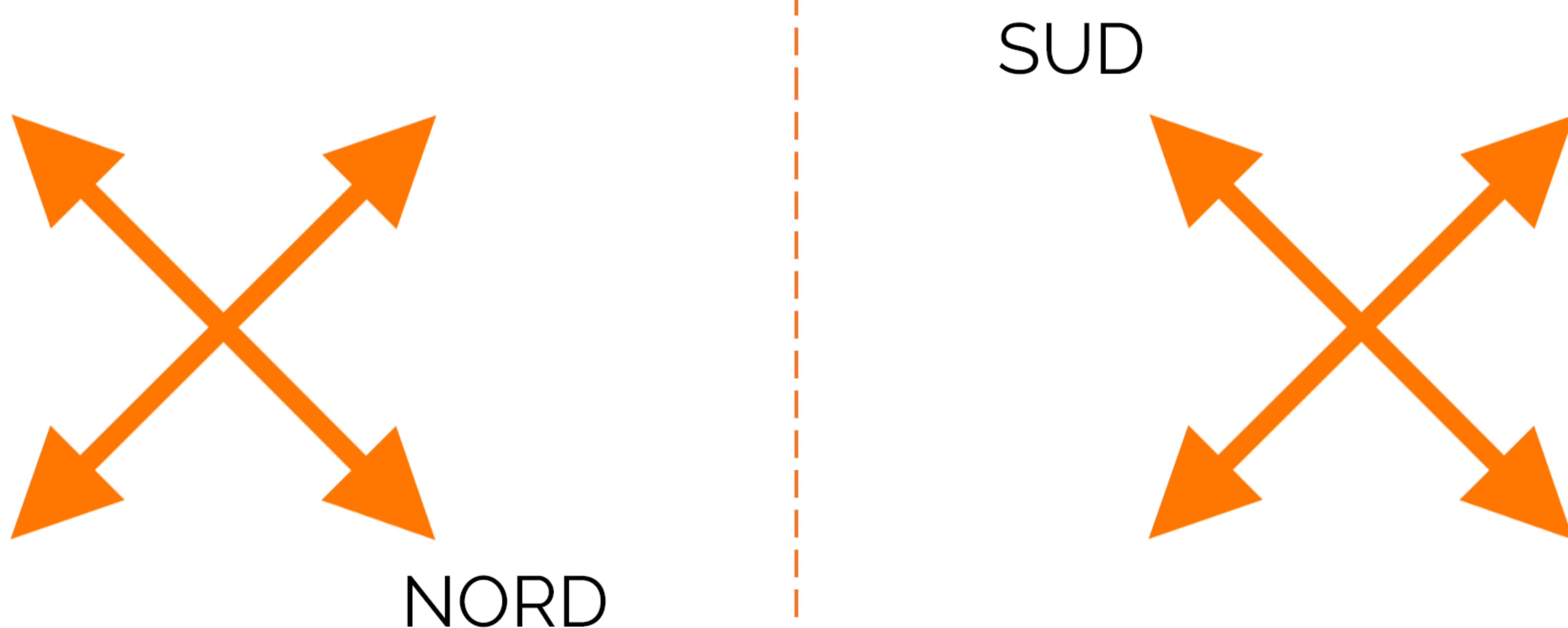
- Completa con i punti cardinali mancanti.



Questa è una copia dimostrativa.

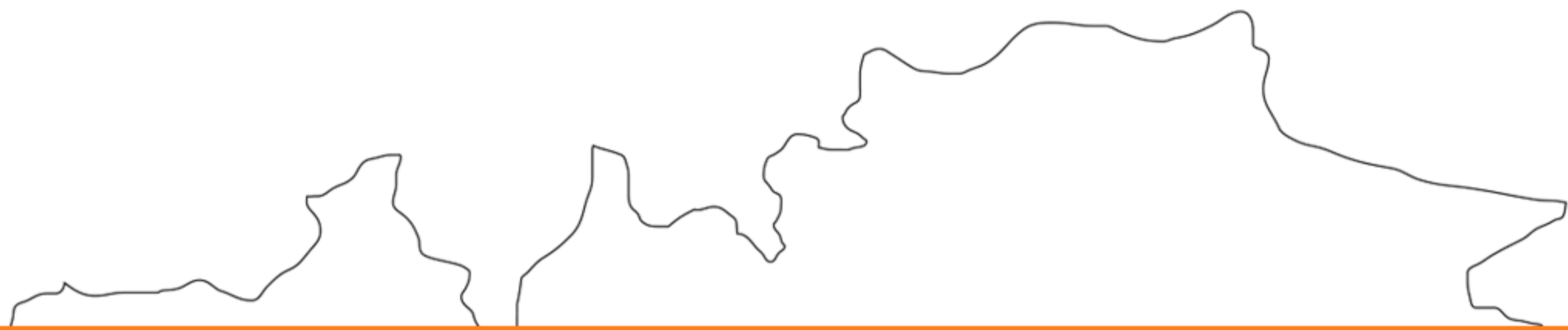
Tutti i nostri libri possono essere acquistati sul sito.

©Pianetabambini.it



Orientamento e punti cardinali

- Osserva la cartina geografica dell'Italia ed inserisci i nomi dei punti cardinali.



Questa è una copia
dimostrativa.

Tutti i nostri libri possono
essere acquistati sul sito.

©Pianetabambini.it



Orientamento e punti cardinali

- Osserva la cartina dell'Italia nella pagina precedente e completa le seguenti frasi inserendo i punti cardinali giusti.

- Roma si trova a di Venezia.

- Foggia si trova a di Roma.

Questa è una copia
dimostrativa.

Tutti i nostri libri possono
essere acquistati sul sito.

©Pianetabambini.it

- Palermo si trova a di Roma e Venezia.

- Venezia si trova a di Verona, Brescia e Milano.

- Verona si trova a di Bologna e Firenze.

- Napoli si trova a di Bari.

Il clima

- Completa il testo con le parole che trovi nel riquadro in fondo.

Il clima è l'insieme delle
..... che caratterizzano una
determinata zona o area geografica nel
corso di un lungo periodo.

Per determinare il tipo di clima gli scienziati



**Questa è una copia
dimostrativa.**

**Tutti i nostri libri possono
essere acquistati sul sito.**

©Pianetabambini.it

il alla tendenza osservabile nel corso di un lungo periodo
in una vasta zona.

precipitazioni - elementi - umidità - venti -
tempo metereologico - clima - temperatura -
condizioni atmosferiche

Il clima

- Contrassegna solo i fattori che concorrono a determinare il clima di un luogo.

Presenza di fitta vegetazione.

Presenza di coltivazioni.

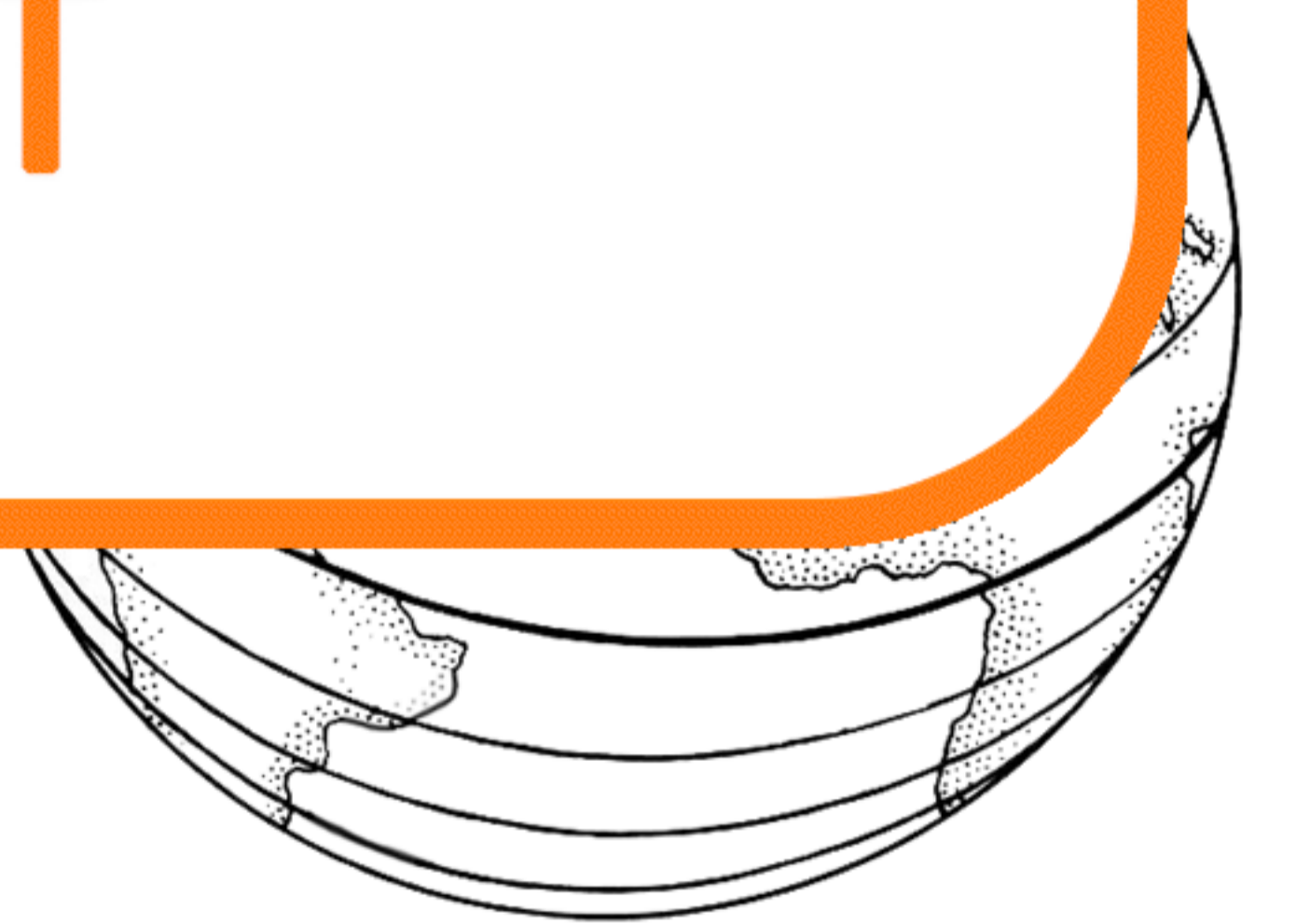


Questa è una copia
dimostrativa.
Tutti i nostri libri possono
essere acquistati sul sito.

©Pianetabambini.it

Latitudine, cioè posizione rispetto all'equatore.

Presenza di numerose colline.



Il clima

- Scegli un colore per ogni fascia climatica e colora sia la cartina che la legenda nel modo appropriato.




Questa è una copia
dimostrativa.

Tutti i nostri libri possono
essere acquistati sul sito.

©Pianetabambini.it

- Zona temperata boreale
- Zona tropicale
- Zona temperata australe
- Zona polare australe



Il clima

- Collega ogni tipo di ambiente alla zona climatica in cui si trova.

FORESTA PLUVIALE



TUNDRA

Questa è una copia
dimostrativa.

Tutti i nostri libri possono
essere acquistati sul sito.

©Pianetabambini.it

FORESTA DI LATIFOGGLIE

MACCHIA MEDITERRANEA



Il clima

- Colora con diversi colori le regioni climatiche italiane indicate sulla cartina, poi colora in modo appropriato la legenda.



Regione:



Alpina

Questa è una copia
dimostrativa.

Tutti i nostri libri possono
essere acquistati sul sito.

©Pianetabambini.it

Il clima

- Completa la mappa concettuale sul clima.

Il clima è

I fattori che determinano il clima sono:

Le fasce climatiche

Questa è una copia dimostrativa.
Tutti i nostri libri possono essere acquistati sul sito.
©Pianetabambini.it

.....

.....

.....

La montagna

- Completa il seguente testo con le parole che trovi nel riquadro.

L'origine delle montagne



Questa è una copia dimostrativa.
Tutti i nostri libri possono essere acquistati sul sito.
©Pianetabambini.it

..... si spingono e sollevandosi creano le montagne.
Le montagne di origine, come il e l'....., derivano dalla presenza di una spaccatura nella crosta terrestre dalla quale fuoriesce il magma che, raffreddandosi e solidificandosi, forma dei rilievi.

orogenesi - Terra - montagne - tettonica - magma - Vesuvio
Alpi - Etna - crosta terrestre - roccia - vulcanica

La montagna

- Completa la mappa concettuale sulla montagna.

Si dice montagna	L'origine tettonica	L'origine vulcanica
---------------------------------------------	------------------------------------------------	------------------------------------------------

Questa è una copia dimostrativa.
Tutti i nostri libri possono essere acquistati sul sito.
©Pianetabambini.it

.....
----------------------------------	----------------------------------	----------------------------------

Le Alpi

- Completa il testo con le parole che trovi nel riquadro in fondo.

Le Alpi sono la catena montuosa più alta d' e si trovano nel nord dell'Italia dove segnano il con Francia, Svizzera, Austria e Slovenia estendendosi per ben 1400 km. Vengono suddivise in tre settori principali ossia Alpi occidentali, centrali ed orientali. Nella zona delle Alpi occidentali si trova la vetta più alta, il

Questa è una copia
dimostrativa.

Tutti i nostri libri possono
essere acquistati sul sito.

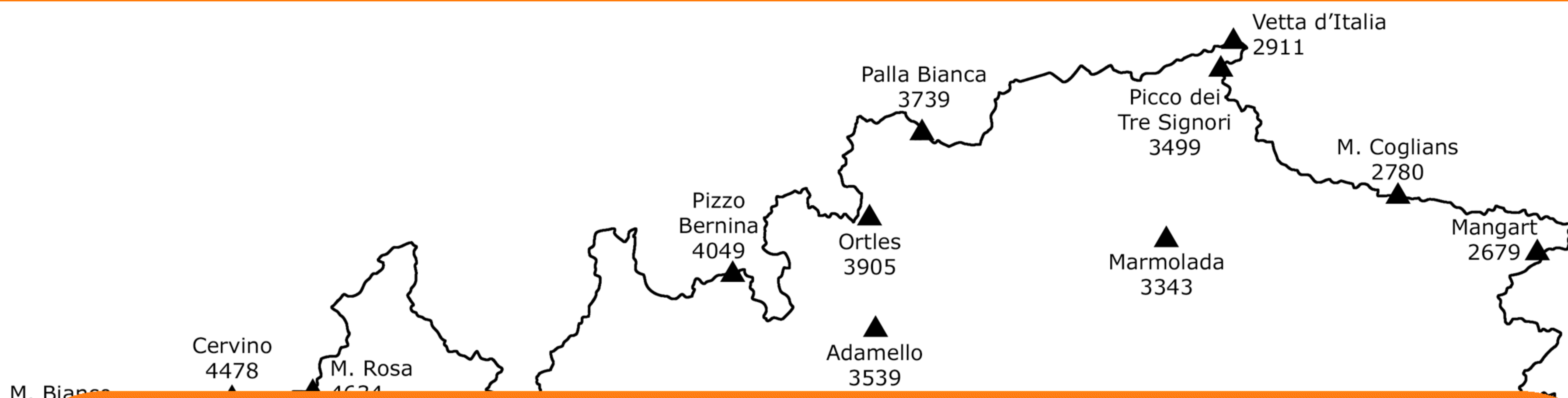
©Pianetabambini.it

vette più alte, scendendo si ammirano di conifere e latifoglie nonché caprioli, cervi, stambecchi, camosci e marmotte.

fiumi - Pianura Padana - trafori - Monte Bianco
Europa - ghiacciai - fossili - confine
boschi - Dolomiti - Prealpi - valichi

Le Alpi

- Osserva la cartina delle Alpi e completa i tre riquadri.



Questa è una copia
dimostrativa.

Tutti i nostri libri possono
essere acquistati sul sito.

©Pianetabambini.it

Le Alpi

• Rispondi alle seguenti domande.

1. Dove si trovano le Alpi?

.....

2. Quale confine segnano?

.....

3

Questa è una copia
dimostrativa.

4

Tutti i nostri libri possono
essere acquistati sul sito.

5

6

7

©Pianetabambini.it

8

.....

9. Come si sono formate le Alpi?

.....

10. Quali sono i limiti occidentali e orientali delle Alpi?

.....

.....

Gli Appennini

- Completa il testo con le parole che trovi nel riquadro in fondo.

Estesa per oltre km, la catena montuosa degli Appennini attraversa tutta l'Italia da Nord a Sud: comincia in Liguria con il e prosegue fino in dividendo la penisola italiana in due versanti, quello tirrenico e quello adriatico. A differenza delle, ben più alte e imponenti, gli Appennini sono quasi privi di e nevi perenni, hanno cime più

Questa è una copia
dimostrativa.

Tutti i nostri libri possono
essere acquistati sul sito.

©Pianetabambini.it

vamento, in particolare di ovini, grazie alla presenza di ampi pascoli, mentre tra la fauna spiccano camosci, lupi e l'

Etna - arrotondate - orso bruno marsicano - Sicilia
calanchi - 1300 - piogge - ghiacciai - Colle di Cadibona
Alpi - 3000 - Gran Sasso - fiumi - macchia mediterranea

Gli Appennini

- Con una matita traccia le divisioni tra i tre Appennini e completa i riquadri.

Cime dell'Appennino Settentrionale

.....

.....



Questa è una copia dimostrativa.
Tutti i nostri libri possono essere acquistati sul sito.
©Pianetabambini.it

Meridionale

.....

.....

.....

.....

.....

Cime dell'Appennino Siculo

.....

.....

.....

Vulcani

.....

.....

.....

Gli Appennini

• Rispondi alle seguenti domande.

1. Dove partono e dove terminano gli Appennini?

.....

2. Quanto è lunga la catena degli Appennini?

.....

3.

Questa è una copia
dimostrativa.

4.

Tutti i nostri libri possono
essere acquistati sul sito.

5.

6.

7.

©Pianetabambini.it

8.

9. Dove si trova e quanto è alto l'Etna?

.....

10. Quali sono i principali vulcani d'Italia?

.....

.....

La collina

- Completa il seguente testo con le parole che trovi nel riquadro.



Questa è una copia
dimostrativa.

Tutti i nostri libri possono
essere acquistati sul sito.

©Pianetabambini.it

terrestre, proprio come le montagne. Infine le colline
hanno origine da vulcani spenti le cui forme sono state addolcite e
modificate dagli

sedimentarie - montagne - 600 - strutturali - rilievi
erosione - agenti atmosferici - detriti - vulcaniche
corrugamento - tettoniche

La collina

- Completa la mappa concettuale sulla collina.

Si dice collina

.....
.....
.....

Le colline moreniche

.....
.....
.....

Le colline vulcaniche

.....
.....
.....

Questa è una copia
dimostrativa.

Tutti i nostri libri possono
essere acquistati sul sito.

©Pianetabambini.it

.....
.....
.....
.....

.....
.....
.....
.....

.....
.....
.....
.....

La pianura

- Completa il seguente testo con le parole che trovi nel riquadro.

Le origini della pianura

Costituite da vasti territori, le pianure italiane si sono formate dopo il sistema montuoso ossia quando i canali di mare tra le e le si sono prosciugati o riempiti di detriti. Diverse sono le origini delle pianure e si distinguono

Questa è una copia dimostrativa.

Tutti i nostri libri possono essere acquistati sul sito.

©Pianetabambini.it

...
carte geografiche con il colore

Vesuvio - verde - pianeggianti - alluvionali - montagne
fiumi - vulcaniche - colline - ghiaia - sollevamento
lava - crosta terrestre - cenere - tettoniche

La pianura

- Completa la mappa concettuale sulla pianura.

Si dice pianura

.....
.....
.....

Le pianure di solle-
vamento

.....
.....

Le pianure alluvio-
nali

.....
.....

Questa è una copia
dimostrativa.

Tutti i nostri libri possono
essere acquistati sul sito.

©Pianetabambini.it

.....
.....
.....
.....

.....
.....
.....
.....

.....
.....
.....
.....

La Pianura Padana

- Osserva la cartina. Una linea separa le montagne dalla pianura. Colora di marrone la zona montuosa e di verde quella pianeggiante. Infine collega con una freccia i tre cartellini alle zone indicate.

Questa è una copia
dimostrativa.

Tutti i nostri libri possono
essere acquistati sul sito.

©Pianetabambini.it

- In quali regioni è situata parte della Pianura Padana?

Lombardia

Liguria

Piemonte

Veneto

Emilia Romagna

Lazio

Friuli Venezia Giulia

Puglia

La Pianura Padana

- Completa il testo con le parole che trovi nel riquadro in fondo.

La Pianura Padana è il territorio pianeggiante più esteso d'Italia, si estende dalle ad ovest fino al Mare ad est toccando diverse regioni: Piemonte, Lombardia, Veneto, Friuli-Venezia Giulia ed Emilia-Romagna. Il termine Pianura Padana deriva dal latino, ossia il nome con il quale gli antichi

**Questa è una copia
dimostrativa.**

**Tutti i nostri libri possono
essere acquistati sul sito.**

©Pianetabambini.it

coltivazione - umidità - Padus - argilloso

Alpi Cozie - alluvionale - Adriatico - Po

montagne - fertile - acqua tiepida - clima

La Pianura Padana

• Rispondi alle seguenti domande.

1. In quale parte dell'Italia si trova la Pianura Padana?

.....

2. In quali fasce si divide la Pianura Padana?

.....

3.0

Questa è una copia
dimostrativa.

4

Tutti i nostri libri possono
essere acquistati sul sito.

5

6

©Pianetabambini.it

7. Che cosa sono le risaie?

.....

.....

8. Cosa viene maggiormente coltivato nella Pianura Padana?

.....

.....

Il fiume

- Completa la seguente tabella che riporta i principali fiumi italiani.

Fiume	km	dove nasce	dove sfocia
Po	652	Alpi	Mar Adriatico
Adige	410		
Tevere	405		
Adda	312		

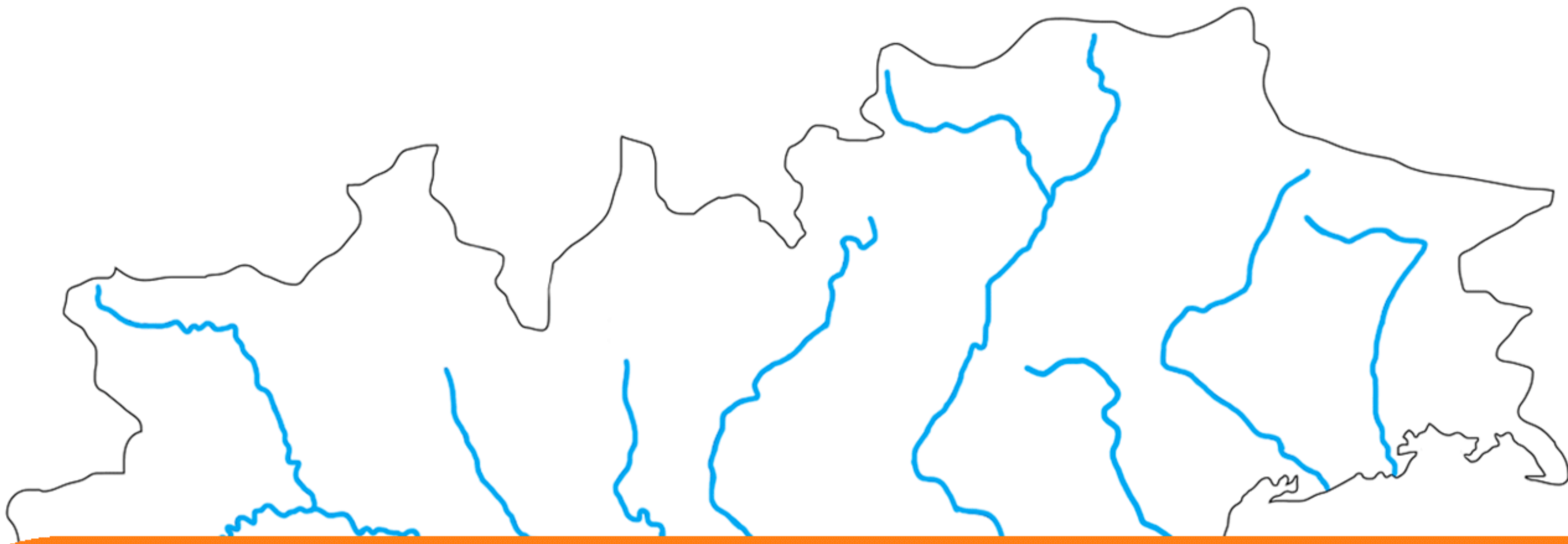
Questa è una copia
dimostrativa.
Tutti i nostri libri possono
essere acquistati sul sito.

©Pianetabambini.it

Ombrone	161		
Dora Baltea	160		
Liri	158		
Tirso	153		
Salso	144		
Agri	136		

Il fiume

- Ora inserisci il nome di tutti i fiumi contenuti nella precedente tabella su questa cartina muta dei fiumi italiani.



Questa è una copia
dimostrativa.

Tutti i nostri libri possono
essere acquistati sul sito.

©Pianetabambini.it



Il fiume

- Completa la mappa concettuale sui fiumi.

Il fiume è

.....
.....
.....

I fiumi nascono

.....
.....
.....

L'acqua proviene da

.....
.....
.....

Questa è una copia
dimostrativa.

Tutti i nostri libri possono
essere acquistati sul sito.

©Pianetabambini.it

.....
.....
.....
.....

.....
.....
.....
.....

.....
.....
.....
.....

Il fiume Po

- Completa il testo con le parole che trovi nel riquadro in fondo.

Con i suoi il Po è il fiume più lungo d'Italia nonché anche il corso d'acqua con maggiore e con il bacino più ampio della nostra penisola. Esso nasce tra le alture del, in una zona chiamata Pian del Re a oltre 2000 metri di altezza alimentato da e ruscelli. Il suo percorso

Questa è una copia dimostrativa.

Tutti i nostri libri possono essere acquistati sul sito.

©Pianetabambini.it

in particolare dalla confluenza del sino alla foce, il Po è con battelli turistici o per trasporto merci.

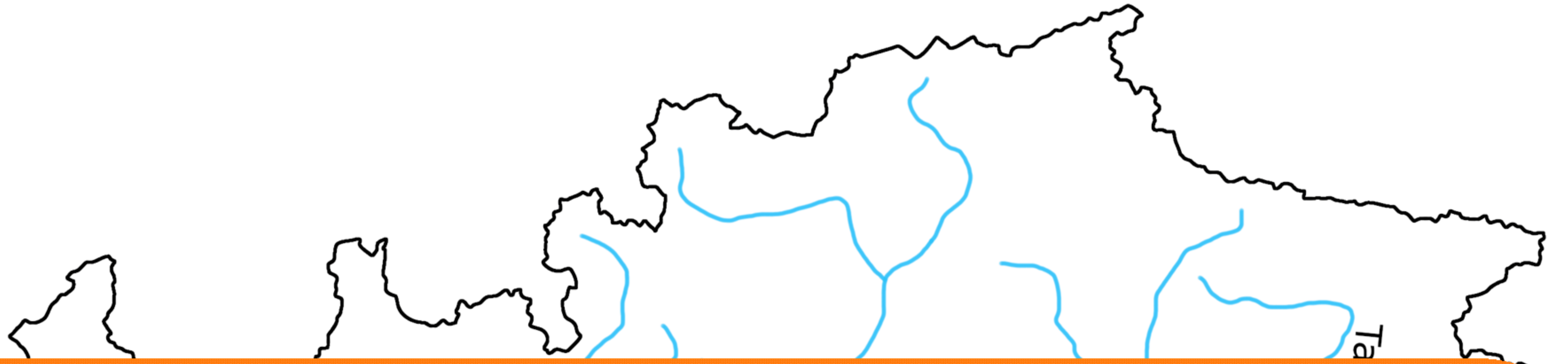
Mare Adriatico - Appennini - portata - delta del Po

ghiacciai - lungo - navigabile - 652 km

Pianura Padana - Monviso - Ticino - Alpi - detriti

Il fiume Po


- Osserva la cartina e scrivi nella giusta tabella i nomi degli affluenti del Po.



Questa è una copia
dimostrativa.

Tutti i nostri libri possono
essere acquistati sul sito.

©Pianetabambini.it



Il fiume Po

• Rispondi alle seguenti domande.

1. Dove nasce e in quale zona dell'Italia scorre il Po?

.....
.....

2. Qual è la città più importante attraversata dal Po?

3

Questa è una copia
dimostrativa.

4

Tutti i nostri libri possono
essere acquistati sul sito.

5

6

©Pianetabambini.it

7

8. Perché la foce del Po continua a crescere avanzando nel mare?

.....
.....

9. Perché il Po è considerato il principale fiume italiano?

.....
.....

Il lago

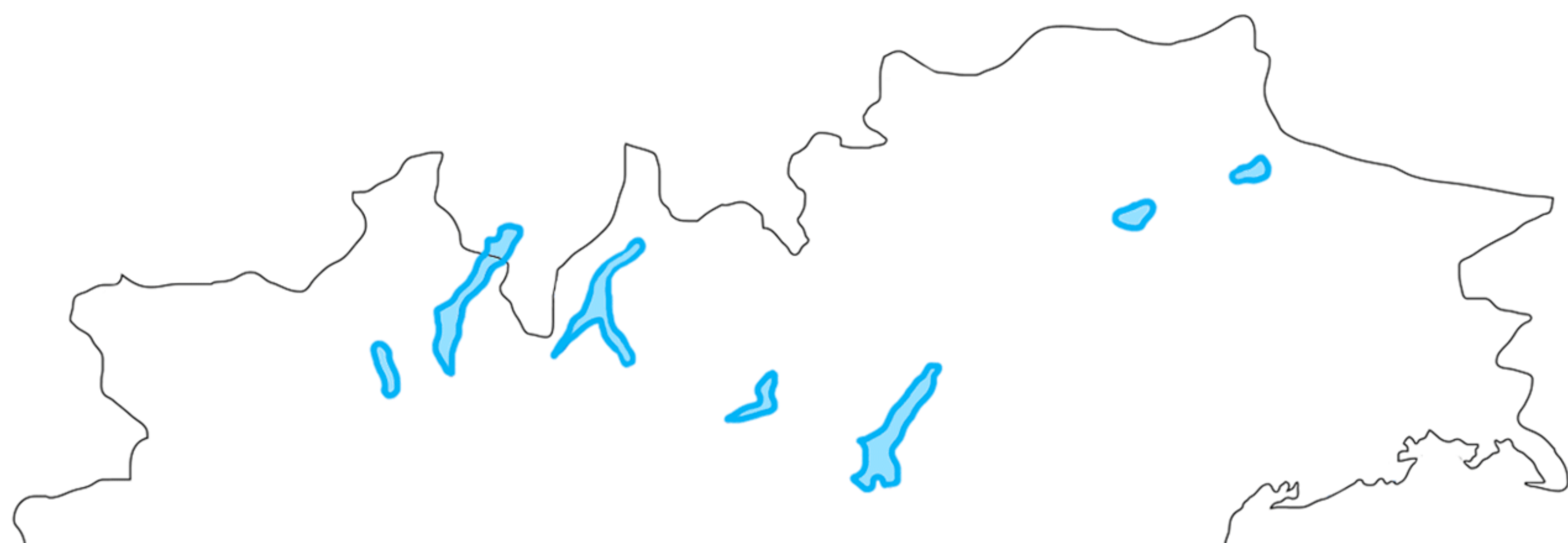
- Nella seguente tabella sono elencati i principali laghi italiani; metti un segno nella casella corrispondente alla loro origine.

L'origine dei principali laghi italiani

Laghi italiani	Glaciali	Vulcanici	Costieri	Tettonici
Lago di Garda				
<p>Questa è una copia dimostrativa.</p> <p>Tutti i nostri libri possono essere acquistati sul sito.</p> <p>©Pianetabambini.it</p>				
Lago di Vico				
Lago di Albano				
Lago di Nemi				
Lago di Misurina				
Lago di Carezza				

Il lago

- Ora inserisci il nome di tutti i laghi contenuti nella precedente tabella su questa cartina muta dei laghi italiani.



Questa è una copia
dimostrativa.

Tutti i nostri libri possono
essere acquistati sul sito.

©Pianetabambini.it

